
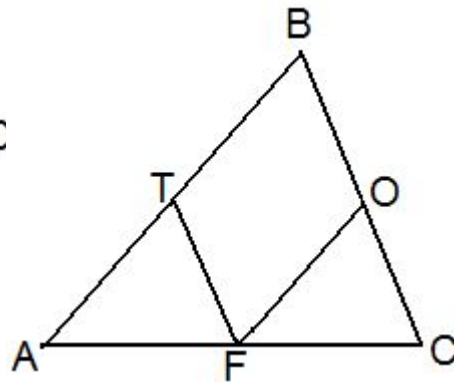
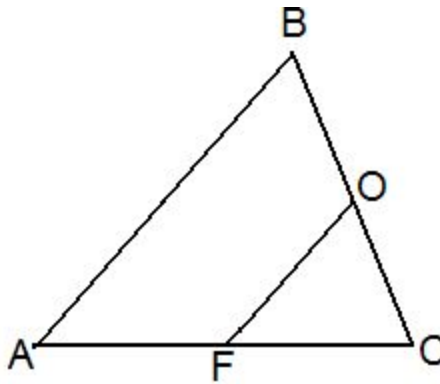




Свойства средней линии

 Средняя линия треугольника параллельна третьей стороне и равна ее половине.



Дано:

ABC - треугольник,
 $OEBC$, $FEAC$,
 OF - средняя линия.

Доказать:

$OF \parallel AB$,
 $OF = 0,5 AB$.

